

Einstieg Groß – weit – schnell

- 1 Suche Rekorde zum Thema „**Groß – weit – schnell**“ in deiner Umgebung oder in Büchern. Du kannst auch in Zeitungen recherchieren. Schneide passende Artikel aus. (z.B. Skifahrer!) Findest du große Zahlen?



- 2 Schreibe einige **große** Zahlen auf, die du auch lesen kannst:
-

- 3 Ab welcher Zahl fangen deiner Meinung nach, die **große** Zahlen an? Diskutiert und begründet eure Meinung in der Gruppe!

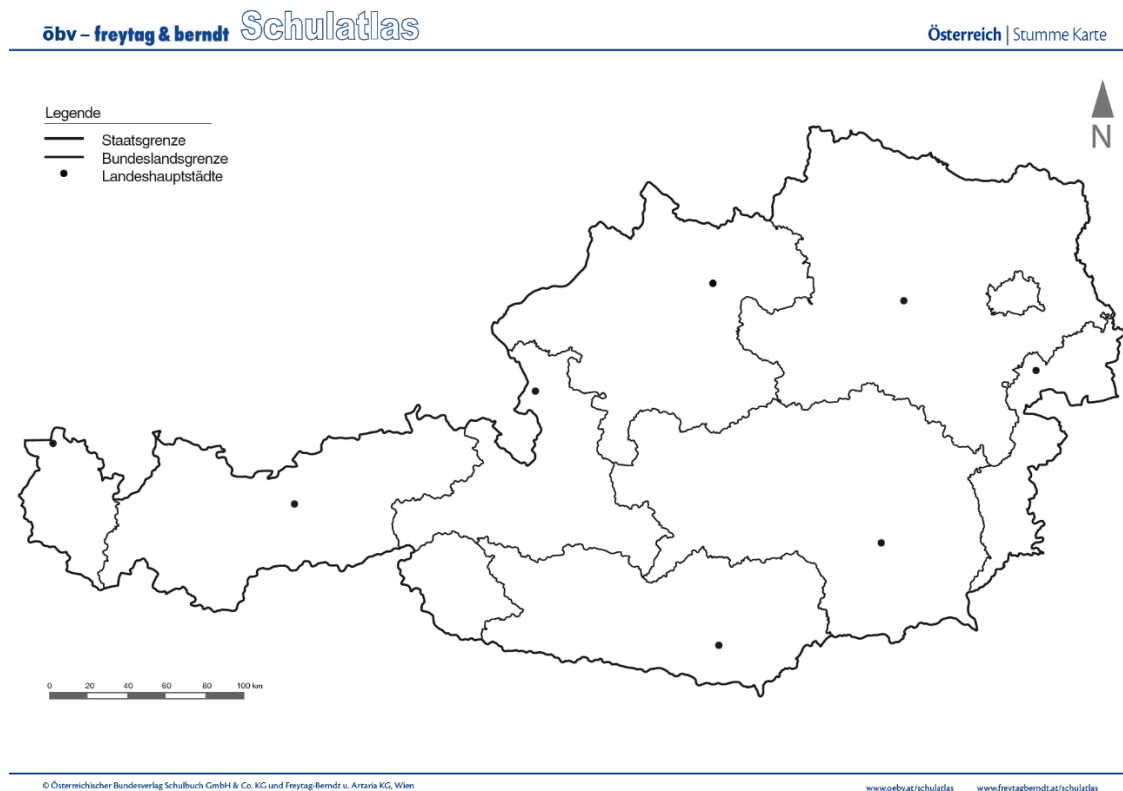
- 4 Welche Dinge, Menschen und Tiere kennst du, die **schnell** sind? Warum würdest du sagen, dass diese **schnell** sind?

- 5 Versuche den Begriff „**weit**“ zu erklären. Was ist **weit**? Kannst du einige Beispiel aus deinem Leben nennen?

Aufgaben Groß – weit – schnell

Fläche in Österreich

Österreich besteht aus neun Bundesländer, die unterschiedlich groß sind.



Quelle:

http://www.schulAtlas.com/2014/menue/stummekarte/stk_aut.html?Ebene0=non&EbeneA=value2&EbeneC=value2&Download=++Karte+herunterladen



Überlege, nach welchen Einheiten man die Größe eines Bundeslandes angeben kann. Finde verschiedene Möglichkeiten und schreibe sie auf.



Schätze die Fläche der Bundesländer anhand der Karte und ordne sie der Größe nach. Beginne mit dem größten Bundesland. Die Gesamtfläche Österreichs beträgt 83 879 km².



In der nachfolgenden Tabelle findest du die tatsächliche Flächengröße der Bundesländer. Ordne sie nun wieder der Größe nach, beginnend mit dem größten. In der 3. Spalte kannst du ablesen, wie viele Einwohner pro km² leben. Das bezeichnet man als **Bevölkerungsdichte**.

Bundesland	Fläche in km ²	Einwohner pro km ²
Burgenland	3 962	74
Niederösterreich	19 184	87
Wien	415	4 572
Oberösterreich	11 980	124
Salzburg	7 156	78
Steiermark	16 401	76
Kärnten	9 538	59
Tirol	12 640	60
Vorarlberg	2 601	153



Hast du richtig geschätzt? Falls nein, welche Bundesländer hast du vertauscht?



In welchen Bundesländern leben besonders viele Einwohner pro km²?



Berechne, wie viele Menschen in Österreich durchschnittlich auf einem km² wohnen.

2 Nachbarländer von Österreich



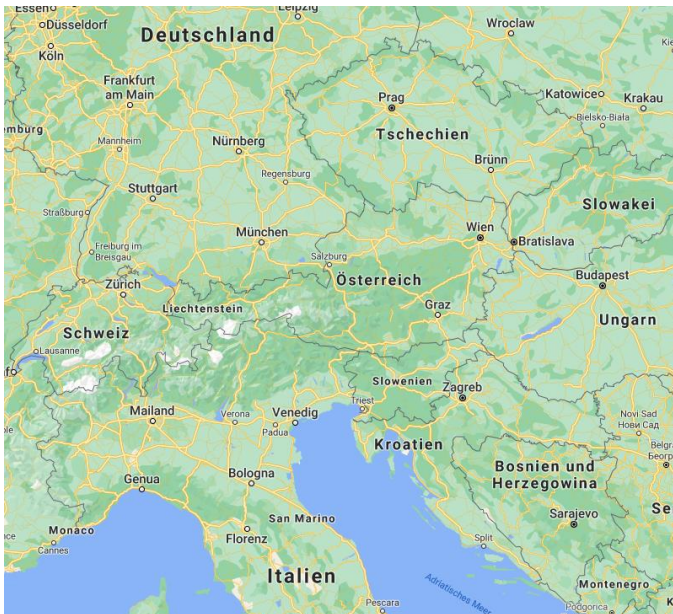
Quelle: www.pixabay.com



Nenne alle Nachbarländer von Österreich, die du kennst.



Insgesamt hat Österreich acht Nachbarländer (wusstest du bereits alle?). In der Karte kannst du sie nun finden. Runde die Flächen auf Hunderter. Ordne sie anschließend der Größe nach, beginne mit dem Land mit der kleinsten Fläche.



Land	Fläche
Deutschland	357 386 km ²
Tschechien	78 866 km ²
Slowakei	49 035 km ²
Ungarn	93 030 km ²
Slowenien	20 271 km ²
Italien	301 338 km ²
Liechtenstein	160 km ²
Schweiz	41 285 km ²
Land	Gerundet
Deutschland	
Tschechien	
Slowakei	
Ungarn	
Slowenien	
Italien	
Liechtenstein	
Schweiz	

Länder der Fläche nach geordnet:



3 Flüsse in Österreich



Der größte Fluss in Österreich ist die _____. Sie ist um 674 km kürzer als der längste Fluss in Europa, die Wolga mit einer Länge von 3531 km.

- Recherchiere, wo in Europa die Wolga liegt.
- Berechne wie lang der größte Fluss Österreichs ist. Formuliere anschließend eine passende Antwort.
- Recherchiere, durch wie viele Länder der größte Fluss Österreichs fließt. Schreibe sie auf.

In der Tabelle sind österreichische Flüsse, die nach ihrer Länge sortiert sind. Runde zunächst auf volle Hunderter. Zeichne danach ein Säulendiagramm mit einer passenden Einheit.

Hinweis: Versuche zuerst eine passende Einheit zu finden, wenn du keine findest, hole dir von deiner Lehrperson eine Hilfestellung.



Fluss	Länge	Gerundet auf H
Donau	2 857 km	
Rhein	1 230 km	
Drau	710 km	
Inn	519 km	
Mur	464 km	




Quelle: www.pixabay.com



Hilfestellung (liegt bei Lehrperson auf)

1 Kästchen (5 mm) entspricht 100 km.



4 Berge in Österreich



Der höchste Berg in Österreich ist der _____ . Seine Höhe beträgt 3 798 m. Der höchste Berg in Europa ist der Montblanc in Frankreich mit 4 807 m.

Berechne den Unterschied und formuliere eine passende Antwort.



Quelle: www.pixabay.com

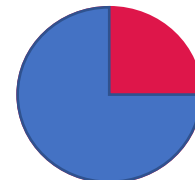
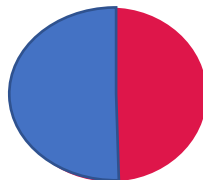


Der höchste Berg in Ungarn ist der Kékes mit 1 014 m.

- Runde den höchsten Berg Österreichs auf Tausender. Runde den höchsten Berg Ungarns auf Tausender.
- Berechne wie oft man den Kékes übereinanderstapeln müsste, damit er die gleiche Höhe wie der Großglockner erreicht.



Von den 20 SchülerInnen der Klasse sind 5 Kinder in den vergangenen Sommerferien in die Berge gefahren. Welches Kreisdiagramm könnte zu dieser Angabe passen? Versuche die 5 Kinder in einen Bruchteil umzuwandeln.



Suche im Atlas noch andere hohe Berge in Österreich. Führe eine Liste und runde auf Z, H und T!

Berg	Bundesland	Höhe	Gerundet auf		
			Z	H	T

5 Der Goliathkäfer



Quelle: www.pixabay.com



Der Goliathkäfer ist das schwerste Insekt der Welt. Er ist etwa 10 cm lang und 11 dag schwer.

- a) Stell dir vor: Sehr viele Goliathkäfer krabbeln in einer Reihe hintereinander. Die Reihe ist einen Kilometer lang. Wie viele Käfer sind das? Wandle um!
- b) Wie viele Goliathkäfer können hintereinander krabbeln, wenn ihre Kriechspur nicht länger als einen halben Meter lang sein darf?
- c) Wie viele Goliathkäfer wiegen zusammen mehr als 1 kg ?
- d) Du besitzt eine große Balkenwaage. Mit wie vielen Goliathkäfern könntest du dein Gewicht aufwiegen?
- e) Erfinde zwei weitere Rechnungen, die du mit Goliathkäfern berechnen kannst.
Suche dir eine/n RechenpartnerIn. Berechne nun die Aufgaben deines/deiner PartnerIn. Kontrolliert anschließend gemeinsam.



6 Tierrekorde



Im Vergleich zu ihrer Körpergröße können manche Tiere sehr weit springen.

- a) Ein Fuchs hat eine Körperlänge von 70 cm, kann aber 4mal so weit springen. Ermittle, wie weit ein Fuchs springen kann.



- b) Ein Floh ist nur 3 mm groß und kann 200 mal seine Körperlänge springen. Berechne wie weit er springen kann.

- c) Stell dir vor, du bist ein Floh. Finde heraus, wie weit du springen könntest.
(Tipp: Wenn du mit 200 multiplizierst, kannst du auch mal 2 rechnen und 00 anhängen.)



Für schlaue Füchse:



Kreise die richtige Antwort ein.

- a) Das schnellste Landtier kann bis zu 120 km/h schnell laufen. Das ist ungefähr so schnell, wie ein Auto auf der Autobahn fahren darf.
Welches Tier könnte das sein?

Hase

Gepard

Windhund

- b) Das größte Tier kann bis zu 6 m hoch werden. Welches Tier ist das?

Giraffe

Elefant


Eisbär

- c) Das schwerste Tier wiegt fast 200 t. Welches Tier ist das?

Elefant

Nilpferd

Blauwal



Quelle: www.pixabay.com



Quelle: www.pixabay.com

Unsere Welt – Zeitzonen

Unsere Welt ist in Zeitzonen eingeteilt. Wenn es bei uns in Österreich 12 Uhr ist, dann ist es in Peking, die Hauptstadt von China, schon 20 Uhr. In New York, diese Stadt liegt in Amerika, ist es aber erst 06 Uhr.



Besuche folgende Seite: <https://www.timeanddate.de/zeitzonen/weltkarte/>



Finde möglichst viele Städte in verschiedenen Zeitzonen. Fülle die Tabelle aus und schreibe den Zeitunterschied zu Österreich auf.

Stadt	Uhrzeit	Zeitunterschied



Berechne den Zeitunterschied bei deinen gesammelten Städten, wenn es bei uns 8 Uhr ist. (Beispiel: Wien 8 Uhr – Peking 16 Uhr)

8 Hochhaus



Quelle: www.pixabay.com

Ein Hochhaus oder Wolkenkratzer ist ein Gebäude, mit vielen Stockwerken. Ein Hochhaus ist also sehr groß. Das größte Gebäude in Österreich ist der Donau City Turm (DC Turm) in Wien. Seine Höhe beträgt ca. 220 m. Der Donau City Turm hat 60 Stockwerke und 29 Aufzüge.



Finde heraus, wie viele Kinder sich aufeinanderstellen müssten, um die Größe des DC Turms zu erreichen. Die Kinder sollen dabei deine Körpergröße haben. Wandle in dm um!

Tipp: Ich bin zirka _____ groß, das sind gerundet _____ dm.




Erfinde eine Sachaufgabe mit den Zahlen in der Angabe, ähnlich wie das vorherige Beispiel.



Du benutzt gerade einen Lift in einem Hochhaus.


- a) Gerade bist du 25 Stockwerke hinuntergefahren. Jetzt befindest du dich im 5. Stockwerk. Ermittle, in welchem Geschoss du eingestiegen bist.
- b) Jetzt bist du im 2. Geschoss. Du steigst im 53 Stockwerk aus. Berechne wie viele Stockwerke du gefahren bist.
- c) Zum Schluss bist du im 12. Stockwerk. Insgesamt fährst du 27 Geschosse hoch. In welchem Stockwerk steigst du aus?

8 Achterbahn



Quelle: www.pixabay.com

Hier findest du eine Abbildung einer Achterbahnfahrt. Kaum zu glauben, aber hier steckt viel Mathematik dahinter.



Quelle: www.pixabay.com



- Finde in der Abbildung so viele rechte Winkel wie möglich. Zeichne einige ein.
- Finde in der Abbildung so viele Rechtecke wie möglich. Zeichne einige ein.
- Miss die Maximalhöhe in Zentimeter der Achterbahn mit einem Lineal ab.
- Das durchschnittliche Gewicht eines Mannes liegt bei zirka 85 kg . Das durchschnittliche Gewicht einer Frau liegt bei 70 kg . Nimm an, dass pro Waggon eine Frau und ein Mann mitfährt. Berechne wie viel alle vier Personen wiegen.
- Ein alter Waggon darf eine Last von 170 kg tragen. Insgesamt haben zwei Personen Platz. Eine Person wiegt 81 kg . Ermittle wie viel die andere Person maximal wiegen darf.



Für schlaue Füchse:



Finde heraus wie lang die abgebildete Fahrtstrecke ist.

Tip1: Nimm eine Schnur. Lege sie auf die Fahrbahn und schneide sie am Ende ab.

Tip2: Nun miss die Länge der Schnur auf einem Lineal.



Groß – weit – schnell – Deine persönlichen Rekorde

Teilt euch in Dreier- oder Vierergruppen ein. Feuert euch gegenseitig an!



Groß – Turm bauen

Versuche, mit Holzbausteinen einen hohen Turm zu bauen. Du hast 3 Versuche. Deine Lehrperson oder ein/e MitschülerIn zählt die Bausteine.

Trage deine Werte in folgende Tabelle ein:

Turm bauen	
1. Versuch	Höhe:
2. Versuch	Höhe:
3. Versuch	Höhe:

Mein persönlicher Rekord wurde im Versuch ____ erreicht. Es waren _____ Bausteine.

Berechne deinen Durchschnittswert der Bausteine.

Meine Durchschnittshöhe beträgt _____ Bausteine.



Weit – – Beidbeiniges Hüpfen aus dem Stand

Versuche, so weit wie möglich aus dem Stand beidbeinig zu hüpfen. Du hast 3 Versuche. Deine Lehrperson oder ein/e MitschülerIn misst die Weite, die du springen kannst.

Trage deine Werte in folgende Tabelle ein:

Beidbeiniges Hüpfen aus dem Stand	
1. Versuch	Weite:
2. Versuch	Weite:
3. Versuch	Weite:

Mein persönlicher Rekord wurde im Versuch ____ erreicht. Ich bin _____ weit gesprungen.

Berechne deinen Durchschnittswert der gesprungenen Weiten.

Meine Durchschnittsweite beträgt _____.



Schnell – 50m-Lauf

Versuche, so schnell wie möglich über 50 m zu laufen. Du hast 3 Versuche. Ein/e MitschülerIn stoppt die Zeit, wie lange du brauchst.

Trage deine Werte in folgende Tabelle ein:

50 Meter Lauf	
1. Versuch	Zeit:
2. Versuch	Zeit:
3. Versuch	Zeit:

Mein persönlicher Rekord wurde im Versuch ____ erreicht. Das war meine schnellste Zeit: _____.

Berechne deinen Durchschnittswert der Laufzeiten.

Meine Durchschnittslaufzeit über 50 m beträgt _____.

Deine persönliche Rekordkarte:

Name

Disziplin	Rekord
Groß	
Weit	
Schnell	

Rekorde erreicht am:

Unterschrift:

